




Combien de bourgeons ont éclaté ?

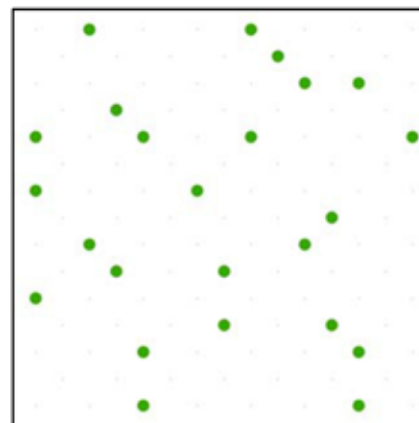
Imaginez que le carré symbolise un arbre, et les points verts des bourgeons ...




A



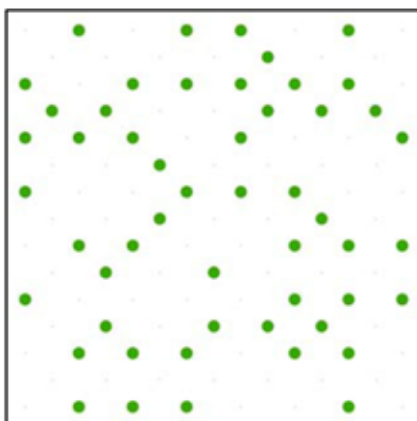
B



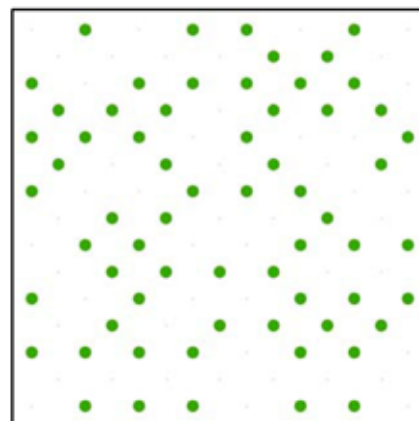
C



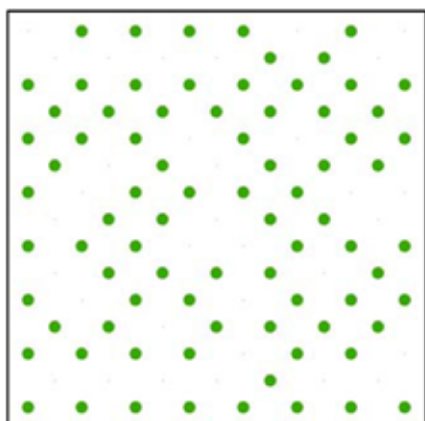
D



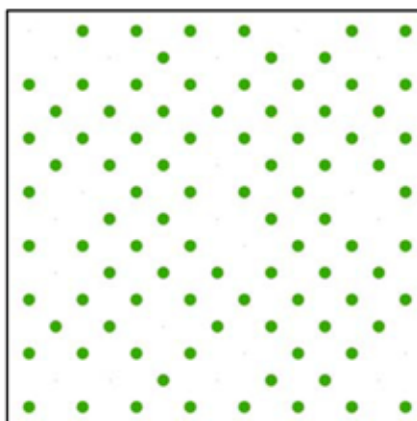
E



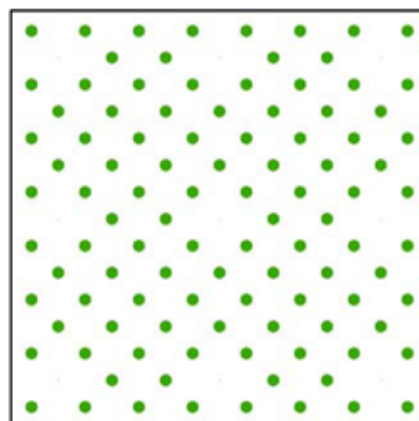
F



G



H



I

Réponses : A : 0% - B : 10% - C : 25% - D : 33% - E : 50% - F : 66% - G : 75% - H : 90% - I : 100%



Donnez, en pourcentage, la progression de la floraison de l'amandier :



A



B



C



D



E



F

Réponses : A : 5% - B : 10% - C : 20% - D : 40% - E : 50% - F : 80%



Évaluer le pourcentage de coloration des feuilles des arbres :

bouleau :



A



B

mélèze :



C



D



E

sorbier :



F



G



H

Réponses : A : 50% - B : 100% - C : 20% - D : 70% - E : 100% - F : 10% - G : 60% - H : 100%